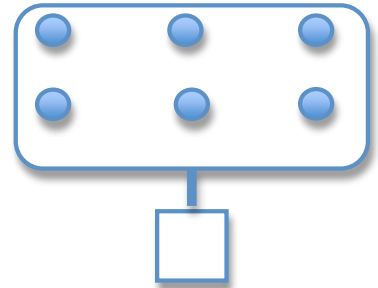
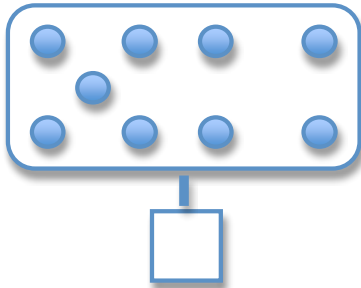
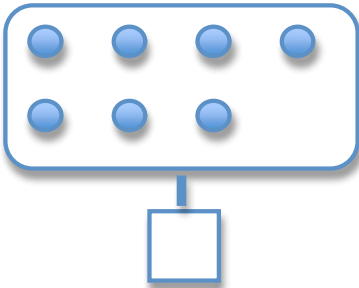


Prénom : _____

Date : ___ / ___ / ___

Mathématiques ~ C.P. ①

1 • Indique le nombre de points : _____ / 3




Dénombrer les objets jusqu'à 9 **A AR VA NA**

2 • Complète : _____ / 4

$5 + 1 = \underline{\quad}$	$\underline{\quad} + \underline{\quad} = \underline{\quad}$	$\underline{\quad} + \underline{\quad} = \underline{\quad}$	$\underline{\quad} + \underline{\quad} = \underline{\quad}$

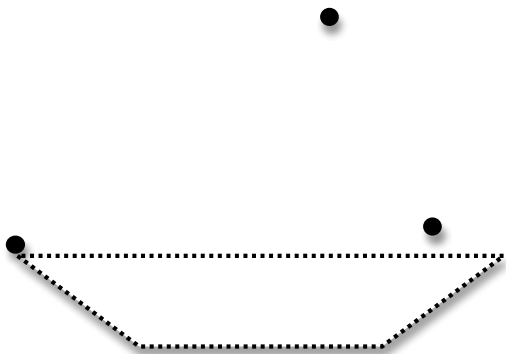
Calcule des sommes ≤ 9 **A AR VA NA**

3 • Dessine autant de points que d'étoiles : _____ / 1



Connaît « autant que » **A AR VA NA**

4 • Repasse sur les lignes et joins les 3 points avec la règle : _____ / 2



Sait utiliser la règle
A AR VA NA

_____ / 10

A : acquis

AR : à renforcer

VA : en voie d'acquisition

NA : non acquis